



組	番	名前
---	---	----

## ⑦ 小数のわり算

1 筆算をしましょう。

①  $1.5 \overline{)6}$

②  $2.8 \overline{)98}$

③  $3.2 \overline{)80}$

④  $4.5 \overline{)126}$

⑤  $2.7 \overline{)8.1}$

⑥  $1.8 \overline{)7.2}$

⑦  $2.1 \overline{)4.62}$

⑧  $3.6 \overline{)9.36}$

2 わり進めるしかたで計算をしましょう。

①  $1.5 \overline{)5.4}$

②  $5.2 \overline{)18.2}$

③  $4.6 \overline{)2.3}$

④  $9.5 \overline{)7.6}$

⑤  $0.5 \overline{)10.2}$

⑥  $0.8 \overline{)19.6}$

⑦  $0.5 \overline{)0.8}$

⑧  $0.4 \overline{)0.3}$

3 商を整数で求め、あまりも出しましょう。

①  $12.6 \div 3.6$

②  $7.7 \div 0.8$




③  $25 \div 0.9$

(                    )

(                    )

(                    )

ひとつだけ ぬりましょう。

		
やさしかった	ふつう	むずかしかった