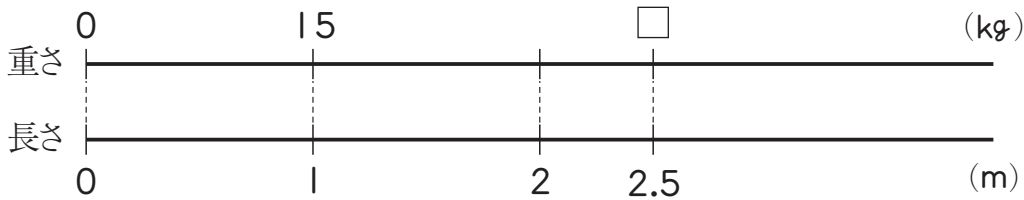


組	番	名前
---	---	----

⑦ 小数のわり算 (図にかいて考えよう)

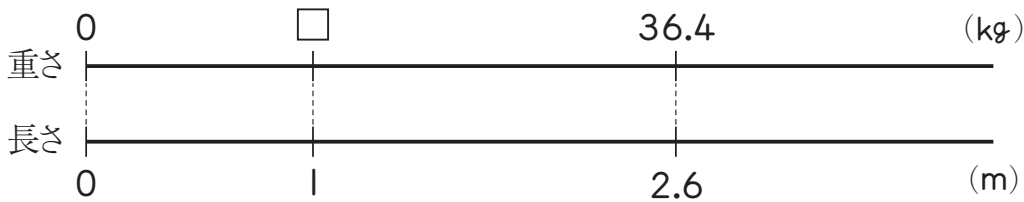
1 1mの重さが15kgのパイプがあります。このパイプ2.5mの重さは何kgでしょうか。



式

答え ()

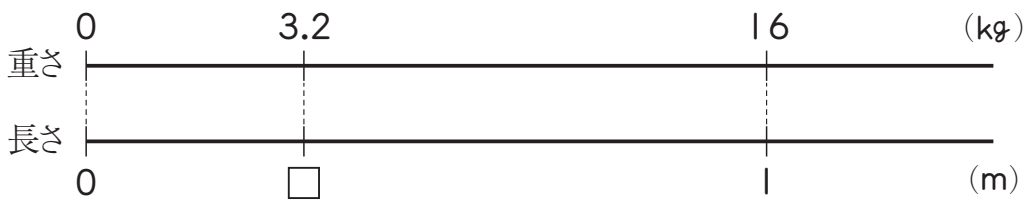
2 2.6mの重さが36.4kgのパイプがあります。このパイプ1mの重さは何kgでしょうか。



式

答え ()

3 1mの重さが16kgのパイプがあります。このパイプ3.2kgの長さは何mですか。



式

答え ()

ひとつだけ ぬりましょう。

やさしかった	ふつう	むずかしかった