



組	番	名前
---	---	----

### ⑤ 単位数あたりの大きさ (1)

1 150m<sup>2</sup>の花だんにチューリップが3750本さいています。80m<sup>2</sup>の花だんにカーネーションが2400本さいています。どちらの花だんがこんでいますか。

式

答え ( )

2 30Lのガソリンで280km走る赤い自動車と、50Lのガソリンで500km走る白い自動車とでは、ガソリンの使用量のわりに走る道のりが長いのは、どちらの自動車ですか。

式

答え ( )

3 広さ9m<sup>2</sup>の2年1組の学級園からは110kgのいもが採れました。広さ8m<sup>2</sup>の2年2組の学級園からは95kgのいもが採れました。それぞれ1m<sup>2</sup>あたり何kgのいもが採れたことになりますか。小数第二位を四捨五入して、小数第1位まで求めましょう。

式

答え (1組 )

(2組 )

4 重さ360gで長さ8mのはり金があります。1mあたりの重さを求めましょう。

式

答え ( )

5 右の表を見て、A、Bの2つの市の人口密度を、小数第二位を四捨五入して、小数第一位まで求めましょう。




式

市	人口 (万人)	面積 (km <sup>2</sup> )
A	23	240
B	62	600

答え ( A )

( B )

ひとつだけ ぬりましょう。

		
やさしかった	ふつう	むずかしかった