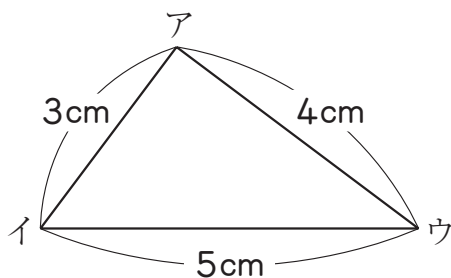


組	番	名前
---	---	----

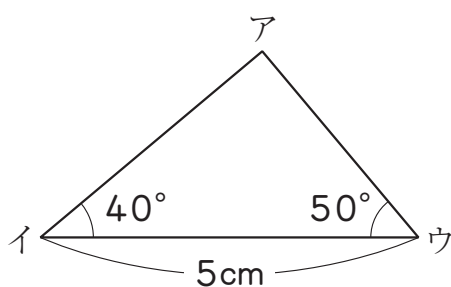
② 図形の合同 (合同な図形のかき方)

1 三角形アイウで、次の大きさがわかっています。この三角形と合同な三角形をかきましょう。

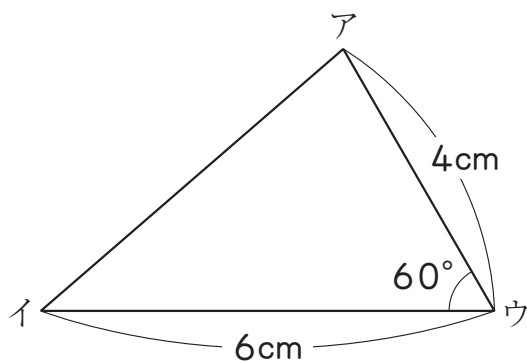
①



②



③



ひとつだけ ぬりましょう。

やさしかった	ふつう	むずかしかった