



	組	番	名前	
--	---	---	----	--

⑩ 倍数と約数 (倍数と公倍数)

1 次の倍数を、小さい方から順に8つ書きましょう。

① 2の倍数

--	--	--	--	--	--	--	--

② 5の倍数

--	--	--	--	--	--	--	--

③ 6の倍数

--	--	--	--	--	--	--	--

④ 7の倍数

--	--	--	--	--	--	--	--

⑤ 11の倍数

--	--	--	--	--	--	--	--

2 次のならんだ数は、何の倍数でしょうか。

① 3, 6, 9, 12, 15, 18, ...

 の倍数

② 6, 12, 18, 24, 30, 36, ...

 の倍数

③ 24, 32, 40, 48, 56, 64, ...

 の倍数

④ 30, 40, 50, 60, 70, 80, ...

 の倍数

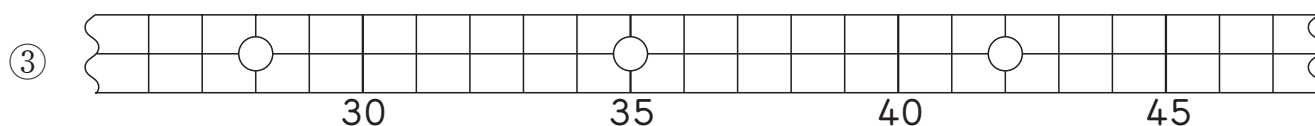
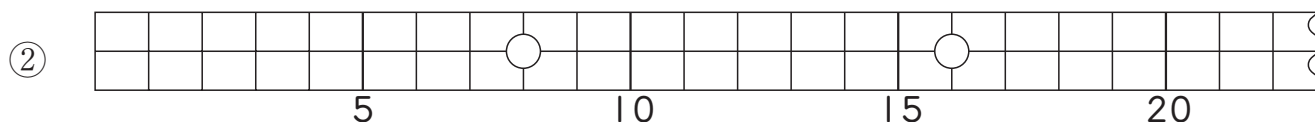
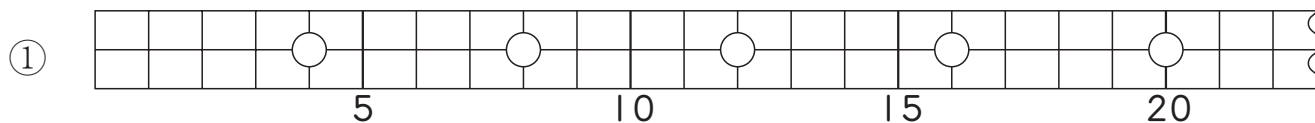
⑤ 30, 45, 60, 75, 90, 105, ...

 の倍数

③のヒント
24, 32, 40, ...
何の段の九九に
出てくるかな。



3 次の倍数のテープは、何の倍数を表しているでしょうか。



倍数の見分け方

2の倍数 … 一の位が0, 2, 4, 6, 8のとき

3の倍数 … 各位の数の和が3の倍数になったとき

4の倍数 … 十の位と一の位を見て4でわり切れたとき

5の倍数 … 一の位が0か5のとき

6の倍数 … 2の倍数で、さらに3の倍数のとき

9の倍数 … 各位の数の和が9の倍数になったとき

10の倍数 … 一の位が0のとき

ひとつだけ ぬりましょう。



やさしかった



ふつう



むずかしかった