

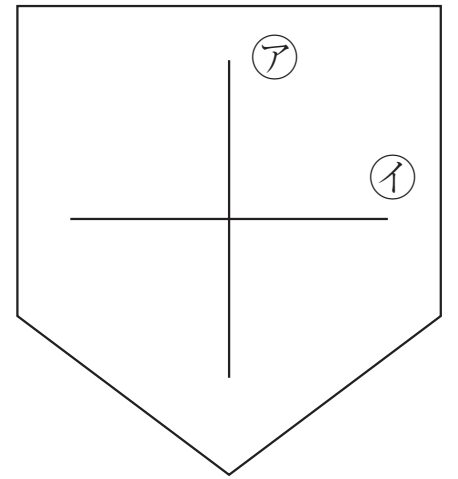
	組	番	名前
--	---	---	----

### ⑥ <sup>すいちよく</sup>垂直・平行と四角形 (垂直)

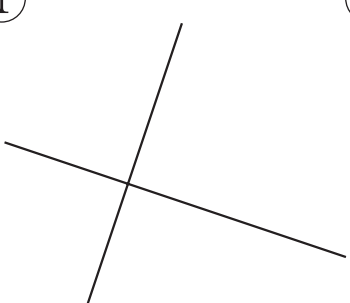

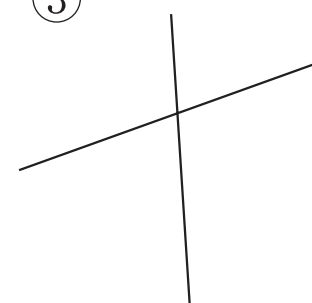
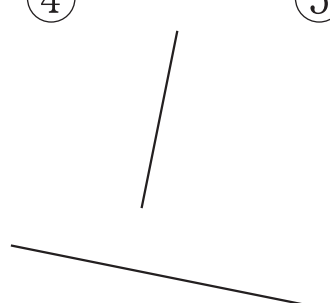

1 右の図は、病院を表す地図記号です。

① 直線アと直線イは何度で交わっていますか。  
( )

② □にあてはまることばを書きましょう。  
2本の直線が直角に交わる時、この2本の直線は□であるといいます。



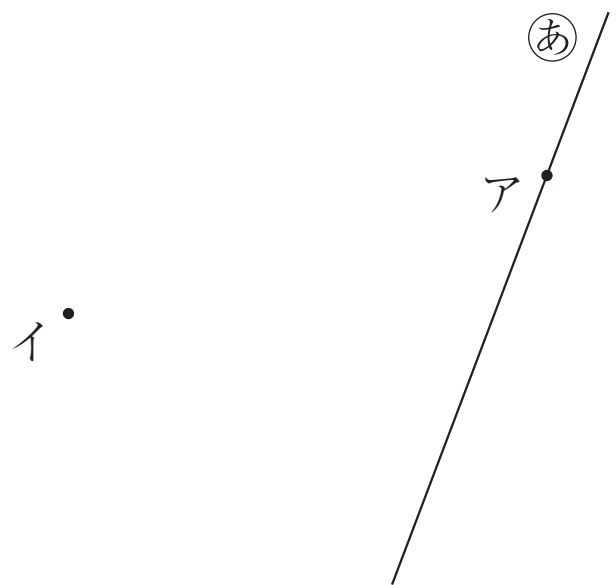
2 次の図で、2本の直線が垂直なのはどれでしょうか。

①  ②  ③  ④  ⑤ 




( )

3 次の直線をかきましょう。

- ① 点アを通過して、直線あに垂直な直線。
- ② 点イを通過して、直線あに垂直な直線。



ひとつだけ ぬりましょう。

		
やさしかった	ふつう	むずかしかった