









	組		番		名前
--	---	--	---	--	----

### ⑤ 角 (角のかき方・三角じょうぎの角)

1 ・を角のちょう点として、下の図を使って40°, 75°, 120°, 200°, 300°の角をかきましょう。

ひとつだけ ぬりましょう。

 やさしかった	 ふつう	 むずかしかった
---	--	--

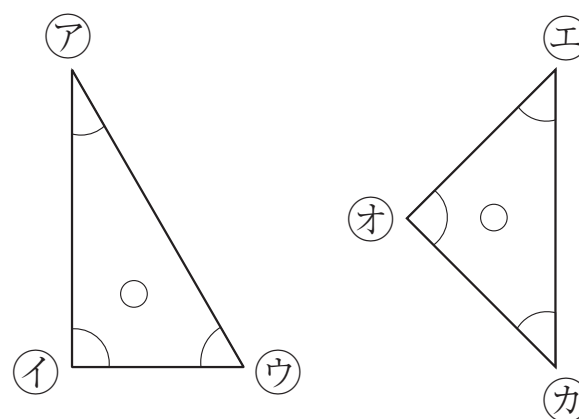


2 三角じょうぎの角について答えましょう。

① 直角はア～カのうち、どれですか。

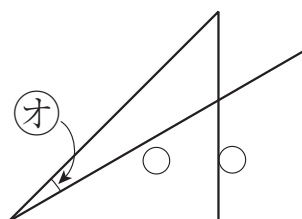
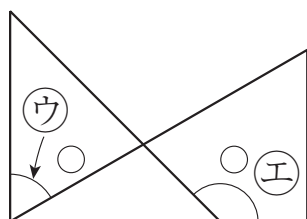
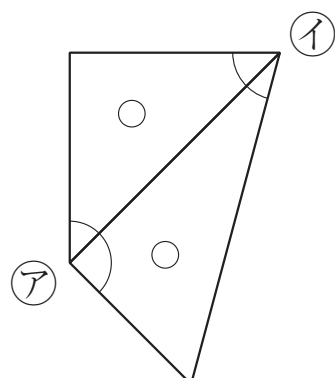
( )

② 分度器を使わずに、三角じょうぎの角を答えましょう。



ア ( )    イ ( )    ウ ( )    エ ( )    オ ( )    カ ( )

3 三角じょうぎを組み合わせて作りました。それぞれ何度ですか。



ア ( )  
 イ ( )  
 ウ ( )  
 エ ( )  
 オ ( )