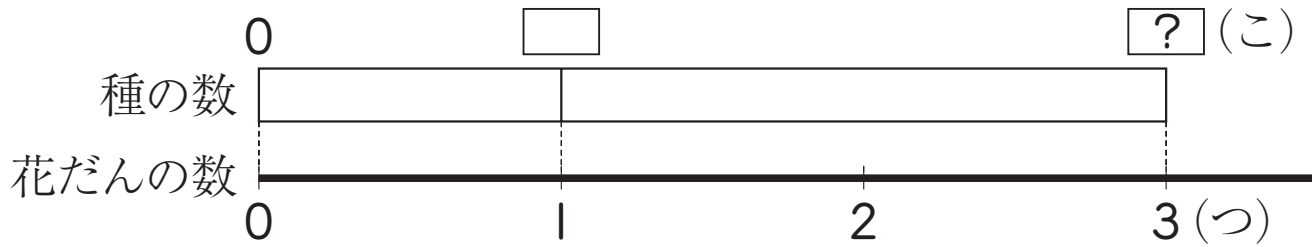


組	番	名前
---	---	----

④ 1けたでわるわり算 (どんな式になるかな)

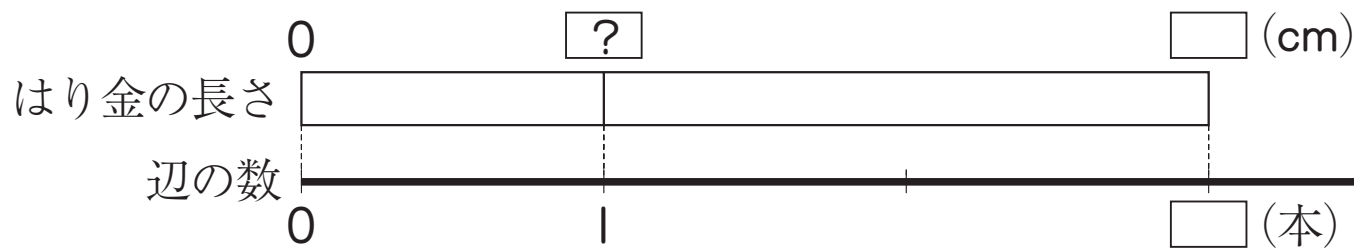
1 1つの花だんに56この種^{たね}をまきます。3つの花だんに種をまくとすると、全部で種は何こ必要^{ひつよう}でしょうか。



式

答え ()

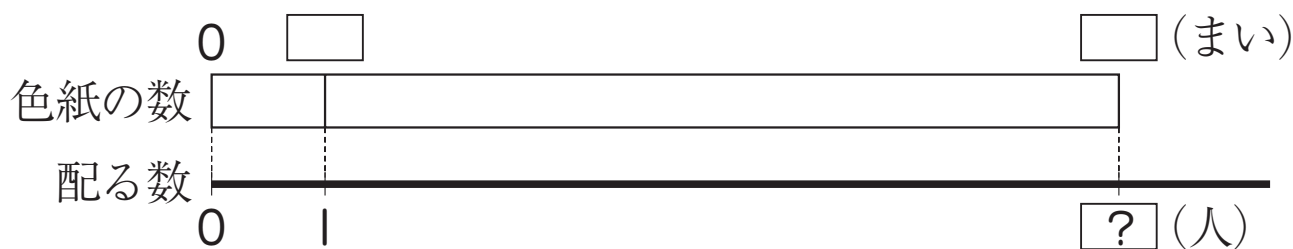
2 81cmのはり金を使って、正三角形の形を作ります。1つの^{へん}辺の長さは、何cmになるでしょうか。



式

答え ()

3 424まいの色紙があります。これを8まいずつ配ると、何人に分けられるでしょうか。



式

答え ()

ひとつだけ ぬりましょう。

やさしかった	ふつう	むずかしかった