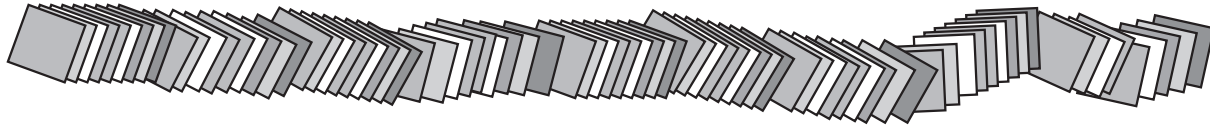


組	番	名前
---	---	----

④ 1けたでわるわり算 (何十, 何百のわり算)

1 90まいの色紙を3人で同じ数ずつ分けます。1人分は何まいでしょうか。



① 式を書きましょう。

$$\boxed{} \div \boxed{}$$

全部の数 人数

② 10まいのたばの数で考えて, 式を書きましょう。



$$\boxed{} \div \boxed{}$$

10まいのたばの数 人数

③ 1人分は何まいでしょうか。

()

2 900まいの色紙を3人で同じ数ずつ分けます。1人分は何まいでしょうか。

① 式を書きましょう。 ()

② ゆりさんは, $9 \div 3$ の計算で答えが出せると考えました。
ゆりさんの考えを説明しましょう。

③ 1人分は何まいでしょうか。

()

3 次の計算をしましょう。

① $40 \div 2$

② $60 \div 2$


③ $120 \div 4$


④ $400 \div 2$


⑤ $800 \div 4$

⑥ $1200 \div 4$

ひとつだけ ぬりましょう。


やさしかった


ふつう


むずかしかった