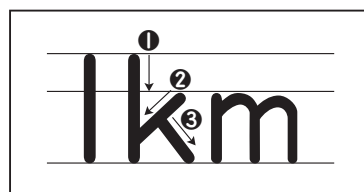


組	番	名前
---	---	----

⑦ 長さ (キロメートル)

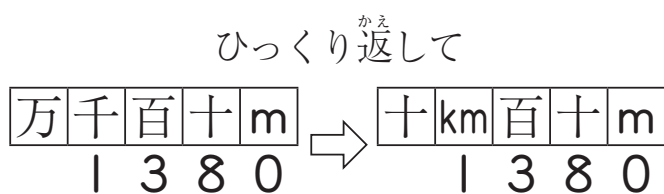
1 1000mを1キロメートルといい、1kmと書きます。「km」を練習
しましょう。



2 次の□にあてはまる数を書きましょう。

【れい】 $1380\text{m} = \square \text{ km } \square 380 \text{ m}$

← ここから km



① $5630\text{m} = \square \text{ km } \square \text{ m}$

② $4700\text{m} = \square \text{ km } \square \text{ m}$

③ $1080\text{m} = \square \text{ km } \square \text{ m}$


④ $8\text{km } 380\text{m} = \square \text{ m}$

↑
 $1000\text{m} = 1\text{km}$

⑤ $1\text{ km } 300\text{m} = \square \text{ m}$

⑥ $3\text{ km } 70\text{m} = \square \text{ m}$

百の位がないよ。



3 長い方に○をつけましょう。

① (230m 2km30m)

② (3km 2980m)

③ (20m 2km)

④ (1490m 1km59m)

⑤ (1060m 1km600m)

《たんいへんこうカード》

十	km	百	十	m
万	千	百	十	m

まん中は山おりにして
のりづけする。
(切り取って位どり表ひょうに使おう)

ひとつだけ ぬりましょう。

