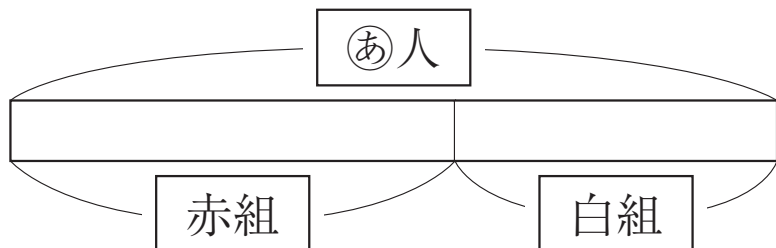




組	番	名前
---	---	----

⑤ たし算とひき算 (どんな計算になるかな)

1 みくさんの学校の子どもは、全部で507人です。運動会で、赤組と白組に分かれます。赤組は294人です。



① ②にあてはまる数を書きましょう。

 人

② 白組は、何人でしょうか。式と答えを書きましょう。
式

答え ()

2 牛にゆうパックを3年生は135まい集めました。4年生は、3年生より30まい多く集めたそうです。

① 図のつづきを書きましょう。


3年生の集めた数


4年生の集めた数


② 4年生は、牛にゆうパックを何まい集めたでしょうか。式と答えを書きましょう。
式

答え ()

ひとつだけ ぬりましょう。


やさしかった


ふつう


むずかしかった