



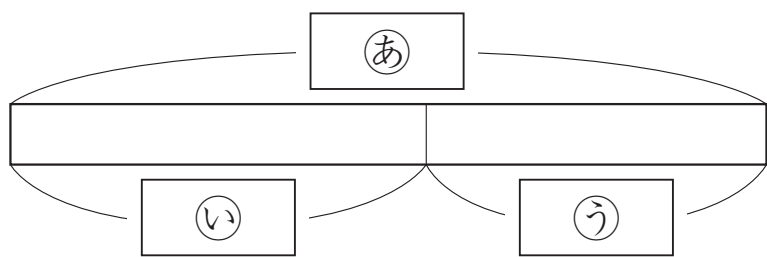
組	番	名前
---	---	----

⑤ たし算とひき算 (どんな計算になるかな)

1 赤いバラが358本, 白いバラが247本さきました。

① バラは, 合わせて何本さいたでしょうか。

(1) 次の図にあてはまることばを□からえらんで書きましょう。



赤いバラの数
 白いバラの数
 ぜんぶの数

あ		い		う	
---	--	---	--	---	--


(2) 式と答えを書きましょう。

式

答え ()

② どちらが何本多くさいたでしょうか。

(1) ちがいの部分に, えん筆で色をぬりましょう。





(2) 式と答えを書きましょう。


式

答え ()

ひとつだけ ぬりましょう。


やさしかった


ふつう


むずかしかった