






組	番	名前
---	---	----

## ● 倍の計算 テープ作り

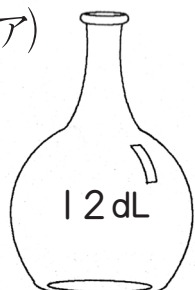

ひとつだけ ぬりましょう。

  
 やさしかった



  
 ふつう

  
 むずかしかった

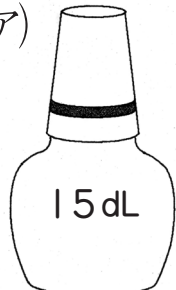

1 (ア)は(イ)の何倍でしょうか。

① (ア)  (イ) 

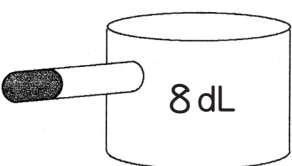

÷  =  (倍)

② (ア)  (イ) 



÷  =  (倍)

③ (ア)  (イ) 



÷  =  (倍)

④ (ア)  (イ) 

÷  =  (倍)

⑤ (ア)  (イ) 

÷  =  (倍)

⑥ (ア)  (イ) 

÷  =  (倍)

2 ゆき子さんは、リボンを15m<sup>も</sup>持っています。あき子さんは、5m持っています。ゆき子さんは、あき子さんの何倍のリボンを持っているでしょうか。

式

答え ( )

3 けんじさんがやった計算問題<sup>もんだい</sup>は32題で、ゆたかさんの4倍もやっています。ゆたかさんは、何題の計算問題をやったでしょうか。

式

答え ( )

4 同じ箱<sup>はこ</sup>がつんであります。35こつんである箱の高さは、7こつんだ箱の高さの何倍の高さでしょうか。

式

答え ( )