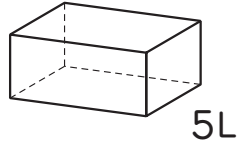
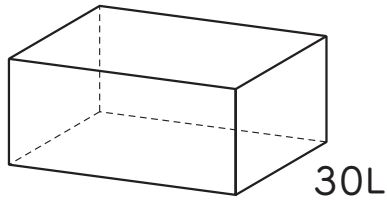




組	番	名前
---	---	----

● <sup>ばい</sup> 倍の計算 テープ作り

1 大きい水そうには、小さい水そうの何倍の水が入りますか。



÷  =  (倍)

2 バケツには、ペットボトルの5倍の水が入ります。

ペットボトルには、2L入ります。

バケツには、何Lの水が入るでしょうか。

式

答え (                    )

3 ゆりさんは、みくさんの7倍の長さのリボンを持っています。




みくさんは、6cmのリボンを持っています。

ゆりさんは、何cmのリボンを持っているでしょうか。

式

答え (                    )

ひとつだけ ぬりましょう。

		
やさしかった	ふつう	むずかしかった