

組	番	名前
---	---	----

④ あまりのあるわり算 (いろいろな問題)

ひとつだけ ぬりましょう。



1 2つの $15 \div 4$ の問題です。


① 15このクッキーを4人で分けると1人何こずつになりますか。また、あまりは何こになりますか。

② 15このクッキーを4こずつ分けると、何人に分けられますか。また、あまりは何こですか。

$15 \div 4 = \square$ あまり \square


$15 \div 4 = \square$ あまり \square

答え




1人3こずつ、のこりが3こ

答え



3人に分けられ、3このこる

2 38羽のわにわとりがいます。



① 6羽ずつのグループに分けて鳥小屋とりにこに入れていきます。何グループできて、何羽のこるでしょうか。

式

答え ()

② のこりのにわとりがないように、6羽と7羽のグループを作るとすると、それぞれ何グループずつになるでしょうか。

6羽のグループ

7羽のグループ

6羽のグループの数	のこり	のこりを7でわる
$6 \times 1 = 6$	6羽	32羽 $32 \div 7 = ?$ あまり?
$6 \times 2 = 12$	12羽	26羽
$6 \times 3 = 18$	18羽	20羽