

組	番	名前
---	---	----

## ③ わり算 (いくつ分かをもとめる計算)



1 次のことを式に書きましょう。  
 答えは、【れい】のようにしてもとめましょう。

1人分2こずつ  
 ○でかこんでいくと  
 ○が3つ。

【れい】

6このあめを、1人に2こずつ分けると、何人がもらえますか。



式

答え


① 8人の子どもが4人で1つのテーブルにつくと、テーブルはいくつ使いますか。



式

答え


② 24本のクレヨンを、6本ずつ箱に入れると、箱は何箱使いますか。



式

答え


③ 63まいのはっぱを、9まいずつふくろに入れるには、ふくろは何ふくろいりますか。



式

答え

④ 9人います。3人ずつ手をつないでまるを1つ作ると、まるはいくつできますか。



式

答え

ひとつだけ ぬりましょう。

