

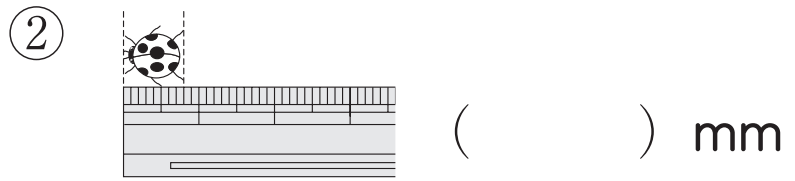
組	番	名前
---	---	----

⑧ ^{なが}長さ(1) (長さの ^{かた}あらかし方)

ひとつだけ ぬりましょう。

やさしかった
 ふつう
 むずかしかった

1 長さは どれだけでしょうか。



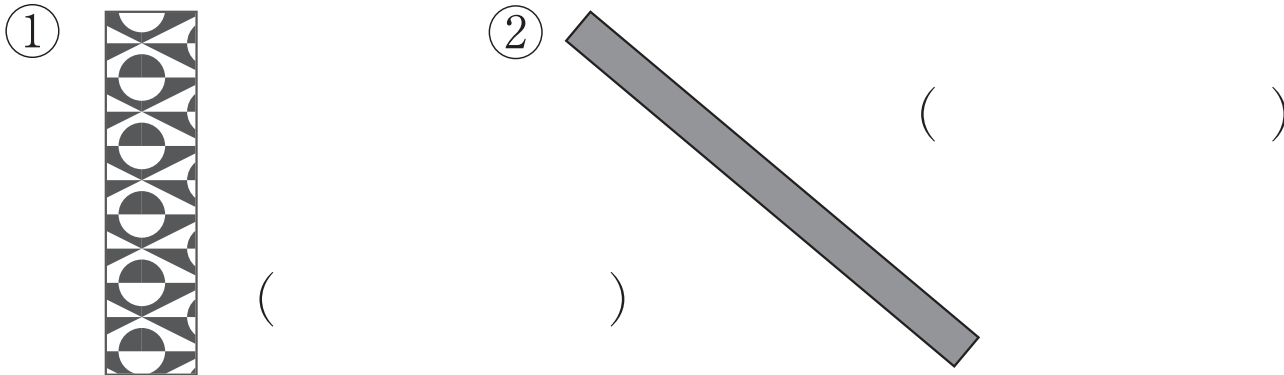
2 れんしゅうを しましょう。

mm mm

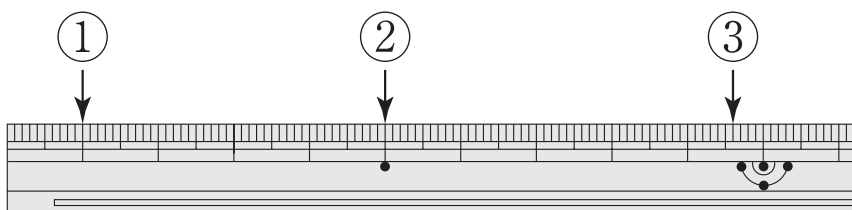
3 テープや ^{せん}線の 長さを はかりましょう。



4 テープの 長さを はかりましょう。



5 左の はしから、①～③までの 長さは、それぞれ 何 cm 何 mm でしょうか。



- ① cm
- ② cm
- ③ cm mm