






	組	番	名前	
--	---	---	----	--

⑦ 大きい数の たし算と ひき算 (3けたの たし算)

ひとつだけ ぬりましょう。

		
やさしかった	ふつう	むずかしかった

1 はがきが 400まい, たばに なって
います。その上に はがきの たば 500まいを かさねました。
ぜんぶで 何まいに なったでしょうか。

しき

答え ()

2 つぎの 計算を しましょう。

① $200 + 400$

② $100 + 900$

③ $300 + 500$

④ $700 + 300$

⑤ $800 + 100$

⑥ $200 + 800$

3 ひっ算で しましょう。

① $428 + 6$

② $567 + 19$

③ $627 + 64$

④ $325 + 37$

⑤ $254 + 36$

⑥ $119 + 1$

⑦ $829 + 42$

⑧ $246 + 5$

⑨ $721 + 59$
