






組	番	名前
---	---	----

⑤ ひき算の ひっ算 (ひき算の もんだい作り)

ひとつだけ ぬりましょう。


 やさしかった


 ふつう


 むずかしかった

1 [2], [4], [7], [8]のカードを ならべて ひき算の もんだいを 作りました。計算を しましょう。

$\begin{array}{r} 87 \\ -42 \\ \hline \end{array}$	$\begin{array}{r} 87 \\ -24 \\ \hline \end{array}$	$\begin{array}{r} 84 \\ -72 \\ \hline \end{array}$	$\begin{array}{r} 84 \\ -27 \\ \hline \end{array}$	$\begin{array}{r} 82 \\ -74 \\ \hline \end{array}$	$\begin{array}{r} 82 \\ -47 \\ \hline \end{array}$
--	--	--	--	--	--

$\begin{array}{r} 78 \\ -42 \\ \hline \end{array}$	$\begin{array}{r} 78 \\ -24 \\ \hline \end{array}$	$\begin{array}{r} 74 \\ -28 \\ \hline \end{array}$	$\begin{array}{r} 72 \\ -48 \\ \hline \end{array}$	$\begin{array}{r} 48 \\ -27 \\ \hline \end{array}$	$\begin{array}{r} 47 \\ -28 \\ \hline \end{array}$
--	--	--	--	--	--

2 [1], [3], [5], [6]で, 上の ように もんだいを 作って, 計算を しましょう。

$\begin{array}{r} _ \\ _ \\ \hline \end{array}$	$\begin{array}{r} _ \\ _ \\ \hline \end{array}$	$\begin{array}{r} _ \\ _ \\ \hline \end{array}$	$\begin{array}{r} _ \\ _ \\ \hline \end{array}$	$\begin{array}{r} _ \\ _ \\ \hline \end{array}$	$\begin{array}{r} _ \\ _ \\ \hline \end{array}$
---	---	---	---	---	---

$\begin{array}{r} _ \\ _ \\ \hline \end{array}$	$\begin{array}{r} _ \\ _ \\ \hline \end{array}$	$\begin{array}{r} _ \\ _ \\ \hline \end{array}$	$\begin{array}{r} _ \\ _ \\ \hline \end{array}$	$\begin{array}{r} _ \\ _ \\ \hline \end{array}$	$\begin{array}{r} _ \\ _ \\ \hline \end{array}$
---	---	---	---	---	---

3 □に 数字を 書き入れて, ひき算の もんだいを 作り, 計算を しましょう。

$\begin{array}{r} 67 \\ -3\ \square \\ \hline \end{array}$	$\begin{array}{r} 22 \\ -\ \square \\ \hline \end{array}$	$\begin{array}{r} 7\ \square \\ -58 \\ \hline \end{array}$	$\begin{array}{r} 58 \\ -\ \square 9 \\ \hline \end{array}$	$\begin{array}{r} 30 \\ -1\ \square \\ \hline \end{array}$
--	---	--	---	--