




組	番	名前
---	---	----

⑤ ひき算の ひっ算
(たし算と ひき算の かんけい)

ひとつだけ ぬりましょう。


 やさしかった


 ふつう


 むずかしかった

1 答えを もとめましょう。また、答えの たしかめも しましょう。

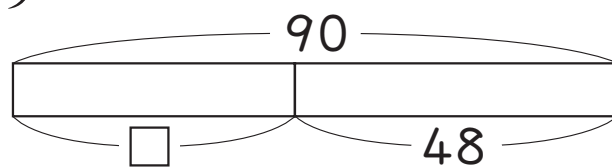
① 2年生は ぜんいんで 90 人です。

そのうち 女の子は 48 人です。

男の子は 何人でしょうか。

しき

答え ()



たしかめ

+

=

答え

ひく数

ひかれる数

② 赤い 花と 白い 花が 合わせて

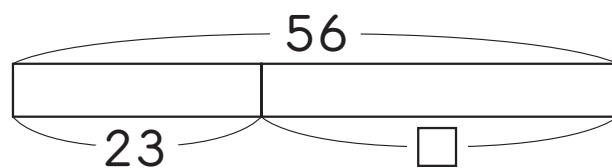
56 本 さいています。赤い 花は

23 本です。白い 花は 何本で

しょうか。

しき

答え ()



たしかめ

+

=

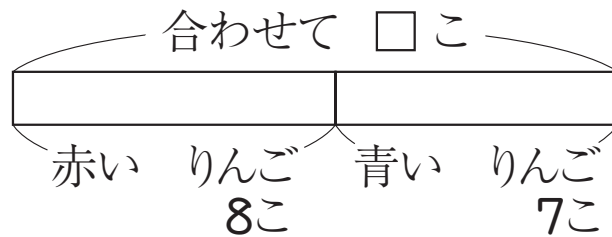
2 答えを もとめましょう。

① 赤い りんごが 8 こ, 青い りんごが 7 こ あります。

りんごは 合わせて 何こ ありますか。

しき

答え ()



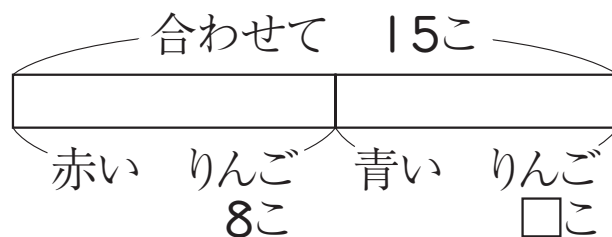
② 赤い りんごと 青い りんごが, 合わせて 15 こ あります。

赤い りんごは 8 こです。青い

りんごは 何こ ありますか。

しき

答え ()



③ ①と ②を くらべて 気づいたところを かきましょう。