

	組	番	名前
--	---	---	----

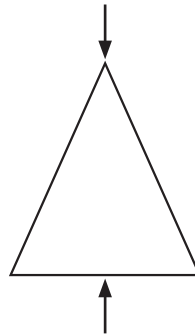
⑩ 三角形と 四角形

1 ()に あてはまる ことばを 書きましょう。

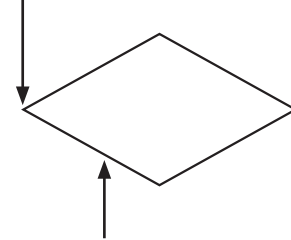
① 3本の 直線で かこまれた 形を ()と います。

② 4本の 直線で かこまれた 形を ()と います。

③ ()




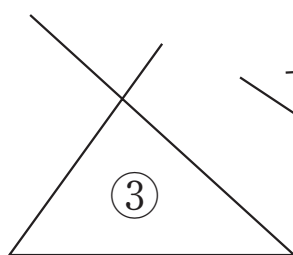
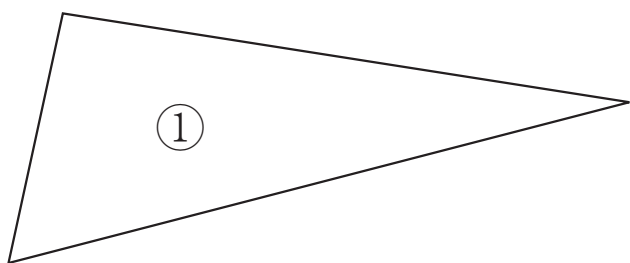
⑤ ()





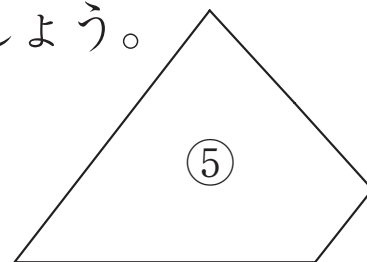
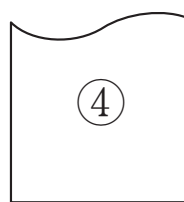
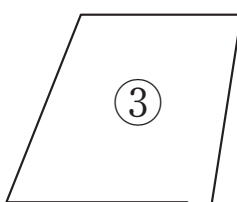
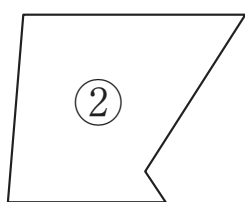
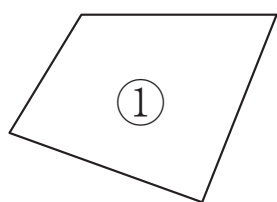
④ ()

⑥ ()

2 どの形も 三角形の つもりで かきましたが, 1つだけ 三角形が できて いない ものが あります。○で かこみましょう。



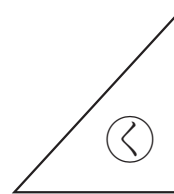
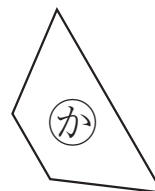

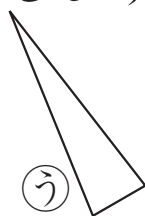
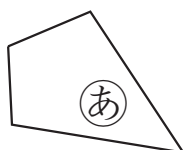
3 つぎの 形の 中に, 四角形で ない ものが あります。その わけを 下の ア～ウから さがし, □に 書きましょう。



四角形でないわけ

ア直線で かこんで いない ①まがった 線が ある ウへんが 1本 多い

4 つぎの あ～くから, 三角形, 四角形を えらんで ()に 記ごうを 書きましょう。



① 三角形 () ② 四角形 ()

ひとつだけ ぬりましょう。

