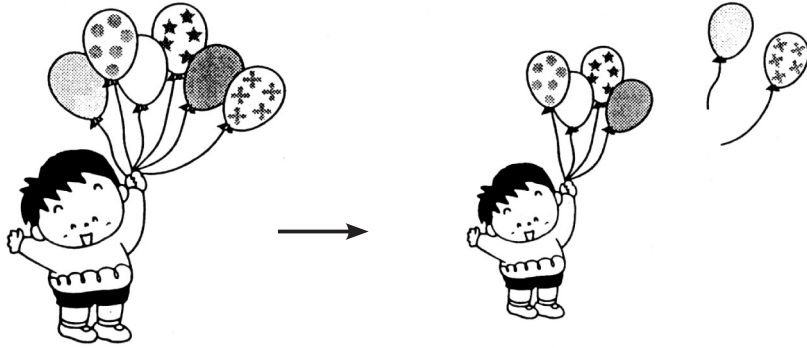


くみ	ばん	なまえ
----	----	-----

④ のこりは いくつ ちがいは いくつ (のこりは いくつ)

1 えをみて、しきと ことえを かきましょう。

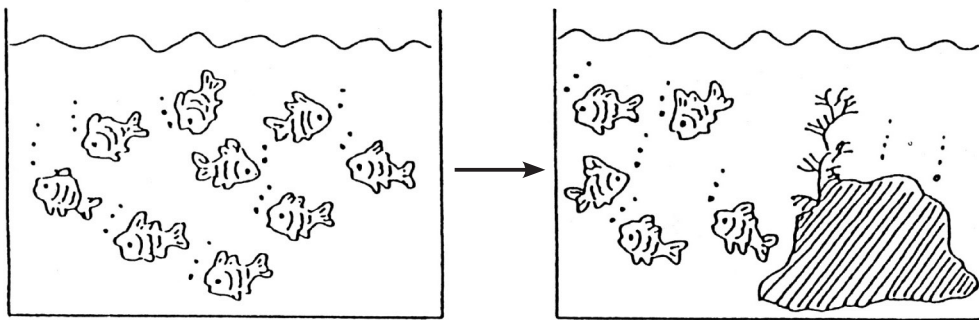
① のこった ふうせんは なんこ？



- =

ことえ こ

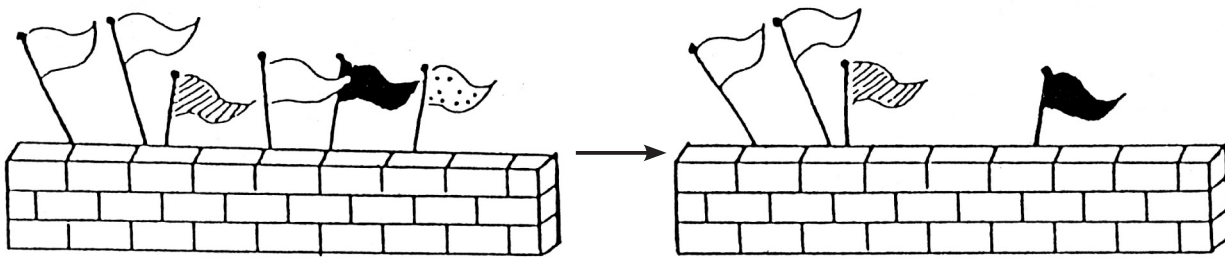
② かくれた さかなは なんびき？



- =

ことえ ひき

③ たおれた はたは なんぼん？



- =

ことえ ぼん

④ ほんが 9 さつ あります。5 さつは えほんです。あとは まんがです。まんがの ほんは なんさつでしょうか。



- =

ことえ さつ

ひとつだけ ぬりましょう。

